

Vendredi 9 avril

1/ Rituel de de lecture :

- annexe 1
- cahier du jour
 - compléter la fiche (annexe 1) et la coller sur le cahier du jour.

2/ Orthographe : -é, -er ou -ait :

- cahier de leçons
- cahier du jour
- annexe 2
 - revoir la leçon O 13
 - recopier les exercices de l'annexe 2 et les faire sur le cahier du jour.
 - ➔ *Pour aller plus loin: Des exercices en lignes (non obligatoires)* <https://www.ortholud.com/conjugaison/exo/ex3.php>

3/ Grandeurs et mesures : les masses :

- cahier de leçons
- cahier du jour
- annexe 3
 - revoir la leçon en Grandeurs et mesures sur les masses
 - faire les exercices des fiches (annexe 3) et les coller sur le cahier du jour.

4/ Production d'écrits:

- cahier du jour
- annexe 4
 - Sur le cahier du jour, écrire un texte pour répondre à la consigne de l'annexe 4. Ce texte doit faire au moins 10 lignes. Il faut sauter des lignes et se relire.

annexe 1 : rituel de lecture

Lorsque Yoann entra, il y frotta énergiquement ses chaussures, les poils drus retenant la terre qui s'accrochait encore à ses semelles. Maman l'avait déposé sur le seuil de l'entrée pour cela, pour éviter toute trace...

Quel objet a des poils drus ?

2 - Pour chaque pronom souligné, surligne le groupe de mots qui est représenté.

La pièce, qui la pièce / une bougie n'était éclairée que par une simple bougie, se retrouva plongée dans le noir. Justine continua d'avancer à tâtons :

elle la pièce / la bougie / Justine était effrayée mais elle devait trouver la sortie

dont la sortie / Justine / la sorcière lui avait parlé la sorcière.

Celle-ci la sorcière / Justine / la sortie n'avait malheureusement pas pu terminer sa phrase...

1 - Lis ce texte et surligne les 5 groupes de mots qui désignent le lapin.

Le lapin regardait passer les enfants. Cela faisait quatre jours qu'il était enfermé dans cette petite cage, au fond du magasin. Le petit animal s'ennuyait. Quand Tissaïa entra, elle remarqua tout de suite la petite boule de poils, et s'en approcha en courant.

Annexe 2

3. Complète les verbes par *-é* ou *-ait*.

a) On entend... le murmure du vent dans les arbres quand l'orage a éclat... . b) Le marin dorm... quand son bateau a touch... un récif. c) Il neige... abondamment lorsque le camion a percut... la barrière de sécurité.

4. Choisis la forme verbale entre parenthèses qui convient.


a) Les oiseaux ont (*volé* – *voler*) longtemps pour (*gagné* – *gagner*) les pays chauds. b) Le lièvre s'est (*empressé* – *empresser*) de (*rentré* – *rentrer*) dans sa tanière. c) Mon père a (*acheté* – *acheter*) un gâteau pour (*fêté* – *fêter*) mon anniversaire. d) Les enfants ont (*joué* – *jouer*) sans se (*disputé* – *disputer*).

8. Recopie chaque série de phrases en complétant les verbes par *-ait*, *-er* ou *-é*.

a) Le campeur a allum... un feu. – Va-t-il réussir à allum... un feu ? – Le campeur allum... un feu tous les soirs.

b) Le capitaine renonc... à sa sortie en mer, car la tempête faisait rage. – Face à la tempête, le capitaine a renonc... à sa sortie en mer. – Face à la tempête, le capitaine a fini par renonc... à sa sortie en mer.


c) Auparavant, mon père rentr... tous les jours après 19 heures. – Il est 19 heures, mon père vient de rentr... . – Aujourd'hui, mon père est rentr... après 19 heures.

 Place les masses proposées dans le tableau de conversion.




37hg et 8 mg – 142 dag et 15 dg – 202 dag – 36 hg – 1 g et 58 mg

kg	hg	dag	g	dg	cg	mg

 Essaie de convertir les mesures de masses suivantes.

- | | | |
|---------------------------|--------------------|--------------------|
| 5 kg et 8 hg = g | 47 dg =mg | 15 kg = g |
| 5 kg 7dag et 5 g =g | 70 g = dg | 3 kg 21 g =g |
| 1 kg 4 hg = g | 503 cg =mg | 49 g = cg |
| 380 mg =dg | 378 dag = g | 28 dg =mg |
| 850 dg = g | 9 kg 56 g =g | 147 g = cg |

 Classe du plus lourd au plus léger (Convertis toutes ces mesures en « g ».):

5 kg - 1 480 g – 50 g – 155 dag - 85 g – 25 hg

--	--	--	--	--	--

 Résous les problèmes suivants



Le boulanger range 25 baguettes de 250 g dans son chariot.
Quelle est la masse totale de pain transporté ? Donne ta réponse en grammes puis en kilogrammes.

Une boîte de sauce tomate, pleine, pèse 220 g ; la masse de sauce tomate est de 190 g. Quelle est la masse de la boîte vide ?

Madame Leboeuf achète un gigot d'agneau de 2 kg. L'os pèse 250 g et à la cuisson, la viande perd 200 g .
- Combien pèse le gigot après cuisson ? (donne la réponse en g, puis en kg).

Écris...

LETTRE

N°3

... une carte postale de vacances
sur laquelle figurerait cette image :



PENSE À RACONTER
OÙ TU ES, CE QUE TU
FAIS, AVEC QUI TU ES,
QUAND EST-CE QUE
TU RENTRES

...

À TA
PLUME !